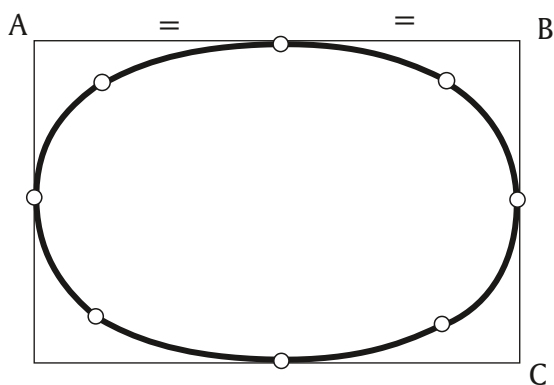
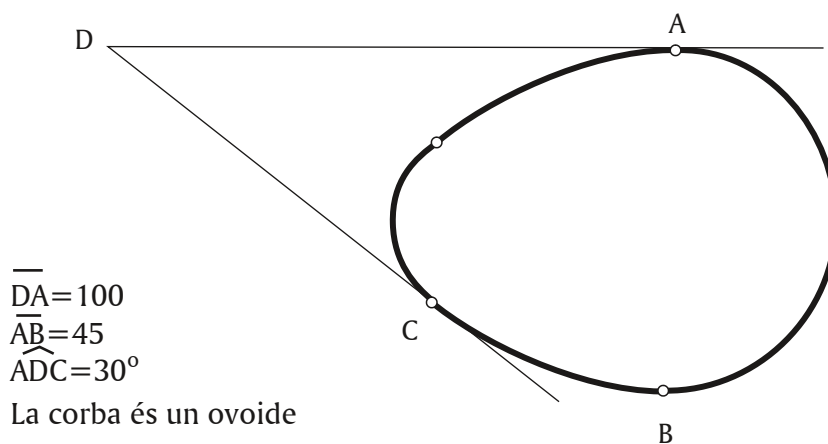
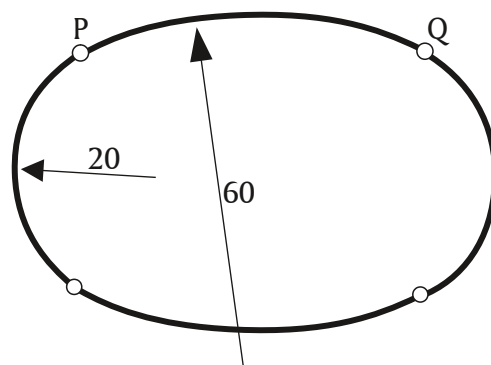


GEOMETRIA PLANA

Construïu les figures segons les dades i els croquis. Les mesures són en mil·límetres. Deixeu indicats clarament tots els punts de tangència i els traçats auxiliars, diferenciats del resultat.



El rectangle té costats de 70 i 45 mm, i el radi major de l'òval fa 50 mm.



La corba és un òval
 $PQ = 50$

Aquest ovoide està basat en un triangle equilàter de 80 mm de costat.

