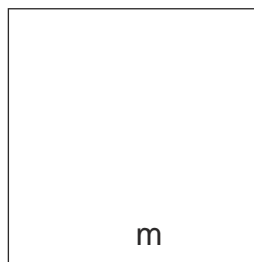
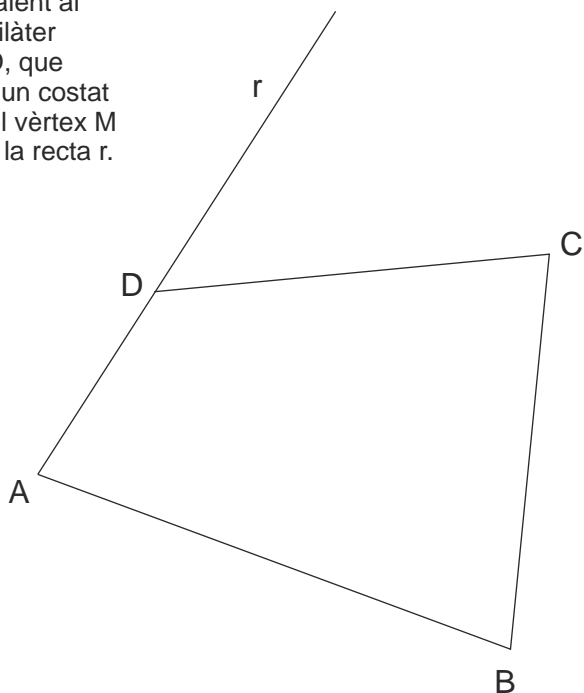


GEOMETRIA PLANA

Construïu les figures en el mateix full, a partir dels elements ja dibuixats, seguint el croquis i les dades.

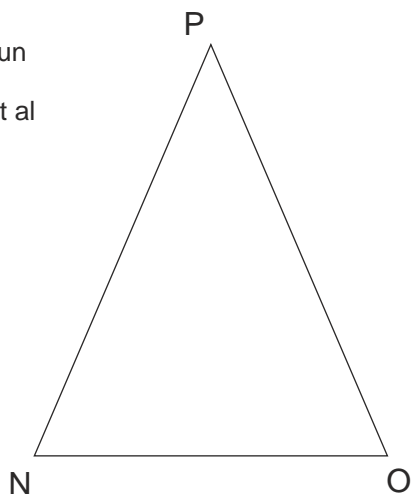
Construïu gràficament el triangle ABM equivalent al quadrilàter ABCD, que tingui un costat AB i el vèrtex M sobre la recta r.



Dibuixeu un triangle rectangle de catet JK equivalent al quadrat de costat m.



Dibuixeu un rectangle equivalent al triangle isòsceles NOP



Dibuixeu un quadrat equivalent al rectangle QRST

Construïu gràficament un triangle equivalent al pentàgon donat, situant-lo de manera el punt E sigui l'extrem esquerre de la base.

